

基礎数学 I

1

以下の問いに答えよ.

(i) 2項係数を ${}_m C_n = \frac{m!}{n!(m-n)!}$ とかく. 2項定理

$$(a+b)^n = {}_n C_0 a^n + {}_n C_1 a^{n-1} b + {}_n C_2 a^{n-2} b^2 + \cdots + {}_n C_n b^n$$

を用いて, $x > 1$ のとき

$$\lim_{n \rightarrow \infty} x^n = \infty$$

であることを示せ.

さらに, $0 < x < 1$ のとき

$$\lim_{n \rightarrow \infty} nx^n = 0$$

であることを示せ.

(ii) $x_0 \neq 0$ とする. 級数

$$\sum_{n=0}^{\infty} a_n x^n$$

が点 $x = x_0$ で収束すれば, $|x| < |x_0|$ なるすべての実数 x についてこの級数は収束することを示せ.

さらに, 級数

$$\sum_{n=1}^{\infty} \frac{1}{n^2} x^n$$

が収束するような実数 x の範囲を求めよ.

An English Translation:

Basic Mathematics I

1

Answer the following questions.

- (i) Let ${}_m C_n$ be the binomial coefficients ${}_m C_n = \frac{m!}{n!(m-n)!}$. Using the binomial theorem

$$(a+b)^n = {}_n C_0 a^n + {}_n C_1 a^{n-1} b + {}_n C_2 a^{n-2} b^2 + \cdots + {}_n C_n b^n,$$

show that

$$\lim_{n \rightarrow \infty} x^n = \infty$$

for $x > 1$.

Next show that

$$\lim_{n \rightarrow \infty} nx^n = 0$$

for $0 < x < 1$.

- (ii) Let $x_0 \neq 0$. Show that the power series

$$\sum_{n=0}^{\infty} a_n x^n$$

converges for any real number x such that $|x| < |x_0|$, if the power series converges at the point $x = x_0$.

Next find the domain of the real number x such that the power series

$$\sum_{n=1}^{\infty} \frac{1}{n^2} x^n$$

converges.

アルゴリズム基礎

2

$G = (V, E)$ を $n \geq 2$ 個の節点の集合 V , 枝集合 E から成る連結単純無向グラフとし, $T = (V, F)$ を節点 $s \in V$ を根とする G の全域木, $\ell: V \rightarrow \{1, 2, \dots, n\}$ を節点の番号付けとし, 以下の条件 (a), (b) が成り立っていると仮定する.

(a) 各枝 $uv \in E$ に対し, 節点 u は, 節点 v の T における先祖, あるいは子孫である,

(b) 各節点 $v \in V \setminus \{s\}$ と T における v の親 u に対し, $\ell(u) < \ell(v)$.

L を T の葉節点の集合とし, 各節点 $v \in V$ に対し, $N(v)$ を v の G における隣接点の集合, $D(v)$ を v および v の T における子孫から成る集合と定める. 関数 $\text{lowpt}: V \setminus (L \cup \{s\}) \rightarrow \{1, 2, \dots, n\}$ を

$$\text{lowpt}(v) = \min\{\ell(y) \mid y \in \bigcup_{x \in D(v)} N(x)\}, \quad v \in V \setminus (L \cup \{s\})$$

と定める. 以下の問いに答えよ.

- (i) どの葉節点 $u \in L$ も G の関節点ではないことを証明せよ.
- (ii) 根 s が G の関節点である必要十分条件は, T における s の子が 2 個以上であることを証明せよ.
- (iii) 節点 $u \in V \setminus (L \cup \{s\})$ が G の関節点である必要十分条件は, u が $\text{lowpt}(v) \geq \ell(u)$ を満たす子 v を持つことであることを証明せよ.

An English Translation:

Data Structures and Algorithms

2

Let $G = (V, E)$ be a connected simple undirected graph with a set V of $n \geq 2$ vertices and a set E of edges, let $T = (V, F)$ be a spanning tree of G rooted at a vertex $s \in V$, and let $\ell : V \rightarrow \{1, 2, \dots, n\}$ be a numbering on V , where we assume that the following conditions (a) and (b) hold.

- (a) For each edge $uv \in E$, vertex u is either an ancestor or a descendant of v in T ,
- (b) For each vertex $v \in V \setminus \{s\}$ and the parent u of v in T , $\ell(u) < \ell(v)$.

Let L denote the set of leaves in T . For each vertex $v \in V$, let $N(v)$ denote the set of neighbors of v in G , and let $D(v)$ denote the set consisting of vertex v and the descendants of v in T . Define a function $\text{lowpt} : V \setminus (L \cup \{s\}) \rightarrow \{1, 2, \dots, n\}$ such that

$$\text{lowpt}(v) = \min\{\ell(y) \mid y \in \bigcup_{x \in D(v)} N(x)\}, \quad v \in V \setminus (L \cup \{s\}).$$

Answer the following questions.

- (i) Prove that no leaf $u \in L$ is a cut-vertex in G .
- (ii) Prove that a necessary and sufficient condition for the root s to be a cut-vertex in G is that s has at least two children in T .
- (iii) Prove that a necessary and sufficient condition for a vertex $u \in V \setminus (L \cup \{s\})$ to be a cut-vertex in G is that u has a child v in T such that $\text{lowpt}(v) \geq \ell(u)$.

線形計画

3

A を $m \times n$ 行列, b を m 次元ベクトルとする. $Az = b$ をみたす n 次元ベクトル z が存在するとする. このとき, 次の線形計画問題 (P) を考える.

$$\begin{aligned} \text{(P) Minimize} \quad & \sum_{i=1}^n y_i \\ \text{subject to} \quad & Ax = b \\ & y_i \geq x_i \quad (i = 1, \dots, n) \\ & y_i \geq -x_i \quad (i = 1, \dots, n) \end{aligned}$$

ただし, 決定変数は $x, y \in \mathbb{R}^n$ である.

以下の問いに答えよ.

- (i) 問題 (P) の双対問題を書け.
- (ii) 問題 (P) が最適解を持つことを示せ.
- (iii) $m = 2, n = 3$ とし,

$$A = \begin{pmatrix} 1 & 2 & 0 \\ 0 & 0 & 5 \end{pmatrix}, \quad b = \begin{pmatrix} 2 \\ 10 \end{pmatrix}$$

とする. このとき, 問題 (P) の最適解を求めよ.

An English Translation:

Linear Programming

3

Let \mathbf{A} be an $m \times n$ matrix, and let \mathbf{b} be an m dimensional vector. Suppose that there exists an n dimensional vector \mathbf{z} such that $\mathbf{Az} = \mathbf{b}$.

Consider the following linear programming problem (P):

$$\begin{aligned} \text{(P) Minimize} \quad & \sum_{i=1}^n y_i \\ \text{subject to} \quad & \mathbf{Ax} = \mathbf{b} \\ & y_i \geq x_i \quad (i = 1, \dots, n) \\ & y_i \geq -x_i \quad (i = 1, \dots, n), \end{aligned}$$

where the decision variables are $\mathbf{x}, \mathbf{y} \in \mathbb{R}^n$.

Answer the following questions.

- (i) Write out a dual problem of problem (P).
- (ii) Show that problem (P) has an optimal solution.
- (iii) Let $m = 2, n = 3$,

$$\mathbf{A} = \begin{pmatrix} 1 & 2 & 0 \\ 0 & 0 & 5 \end{pmatrix}, \quad \mathbf{b} = \begin{pmatrix} 2 \\ 10 \end{pmatrix}.$$

Obtain an optimal solution of problem (P).

線形制御理論

4

図1で示されるフィードバックシステムを考える。ここで $P(s)$ は制御対象, $C(s)$ は補償器, y は出力, u は入力, u_c は制御指令値, e は偏差, d は外乱, r は参照入力である。以下の問いに答えよ。

(i) このフィードバック系が安定であることの定義を述べよ。

以下では, 補償器 $C(s)$ は図2の構造をしているとする。ただし $G(s)$, $K(s)$ は適当な伝達関数であり, ここでは $G(s) = P(s)$ とおくものとする。

(ii) r から e , r から u , d から u , d から e への伝達関数をそれぞれ求めよ。

(iii) $P(s)$ は安定であるとする。図1のフィードバックシステムが安定となるためには, $K(s)$ が安定であることが必要十分であることを示せ。

(iv) 伝達関数 $P(s)$, $K(s)$ をそれぞれ

$$P(s) = \frac{1}{s^2 + s + 1}, \quad K(s) = \frac{b}{s + a}$$

とする。ただし a, b は実定数である。 r を単位階段関数としたときに出力 y の定常値は 1, $r = \sin t$ を入力したとき, 出力 y の定常振幅は $2\sqrt{5}/5$ になった。定数 a, b を求めよ。

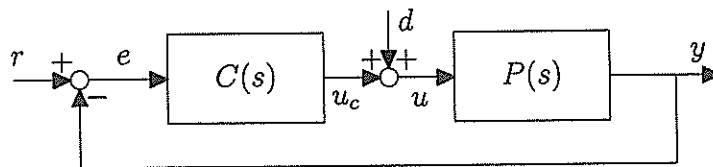


図1: 制御系

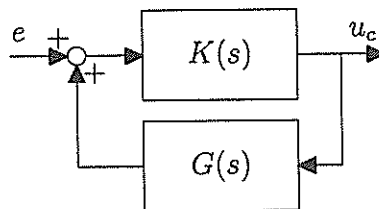


図2: 補償器 $C(s)$ の構造

An English Translation:

Linear Control Theory

4

A feedback control system is given by the block diagram shown in Figure 1, where $P(s)$ is a control plant, $C(s)$ is a compensator, y is an output, u is an input, u_c is a control command, e is an error, d is a disturbance, and r is a reference input. Answer the following questions.

(i) State the definition of the stability of the feedback system.

In what follows, assume that the compensator $C(s)$ has the structure shown in Figure 2. Here, $G(s)$ and $K(s)$ are transfer functions, and we assume $G(s) = P(s)$.

(ii) Calculate the transfer functions from r to e , r to u , d to u , and d to e , respectively.

(iii) Assume that $P(s)$ is stable. Show that the feedback system in Figure 1 is stable if and only if $K(s)$ is stable.

(iv) Let $P(s)$ and $K(s)$ be given as

$$P(s) = \frac{1}{s^2 + s + 1}, \quad K(s) = \frac{b}{s + a};$$

where a and b are real constants. When r is the unit step function, the steady state value of the output y is 1. When $r = \sin t$, the steady state amplitude of the output y is $2\sqrt{5}/5$. Calculate a and b .

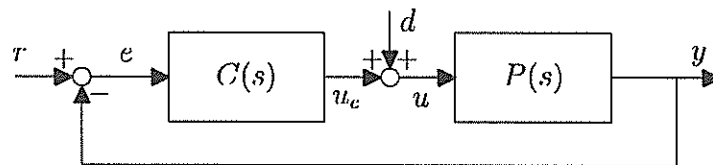


Figure 1 Feedback system.

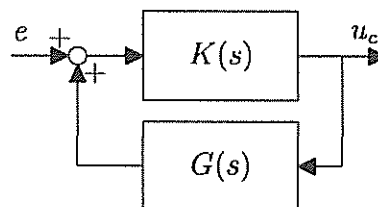


Figure 2 The structure of the compensator $C(s)$.

基礎力学

5

質量 m の物体が空気中を鉛直方向上むきの初速度 $v_0 (> 0)$, 初期高度 0 の条件で運動している. 空気の抵抗力 R は速度 v の 2 乗に比例する ($R = \gamma v^2, \gamma > 0$) とし, 重力加速度を g とする. 以下の問いに答えよ.

- (i) 物体の速度 v を時間 t の関数として求めよ. 但し, $v(t) \geq 0$ の間のみで良い.
- (ii) 物体の運動の最高点の高さを求めよ.
- (iii) 物体が最高点に達するまでの時間 T を v_0 の関数として求め, $v_0 \rightarrow \infty$ の時と時間 T を求めよ.
- (iv) $t \rightarrow \infty$ の時の物体の速度 (終端速度) v_∞ を求めよ.

An English Translation:

Basic Mechanics

5

A particle of mass m is moving through the air with the initial velocity being $v_0 (> 0)$ in the vertically upward direction and the initial height of the particle being 0. Let the force of air resistance R be proportional to the square of the velocity v as $R = \gamma v^2$, $\gamma > 0$ and g be the acceleration of gravity. Answer the following questions.

- (i) Obtain as a function of time t the velocity of the particle while $v(t) \geq 0$.
- (ii) Obtain the height of the highest point of the particle motion.
- (iii) Obtain as a function of v_0 the time T when the particle reaches the highest point, and then obtain the limit of T when $v_0 \rightarrow \infty$.
- (iv) Obtain the terminal velocity v_∞ of the particle when $t \rightarrow \infty$.

基礎数学 II

6

$n \times n$ 行列 A を用い、線形写像 f を

$$f: \mathbb{R}^n \rightarrow \mathbb{R}^n; v \mapsto Av$$

によって定める。このとき、 f の核を

$$N = \{v \in \mathbb{R}^n \mid f(v) = 0\}$$

で表し、ベクトル $v = (v_1, v_2, \dots, v_n)^\top \in \mathbb{R}^n$ の非ゼロ要素数を

$$\sigma(v) = \sum_{j=1}^n \delta(v_j)$$

によって定める。ただし、記号 \top は転置を表し、 $\delta(a) = \begin{cases} 0 & (a = 0) \\ 1 & (a \neq 0) \end{cases}$ とする。

d を n 以下の正の整数とする。このとき、以下の問いに答えよ。

(i) \mathbb{R}^n の部分空間 $V = \{v \in \mathbb{R}^n \mid v = f(u), u \in \mathbb{R}^n\}$ の次元が

$$\dim V = n - \dim N$$

で与えられることを示せ。

(ii) 行列 A の適当な $d-1$ 個の列ベクトルの組が線形従属ならば、 $\sigma(x) < d$ を満たす非ゼロベクトル $x \in N$ が存在することを示せ。

(iii) 任意の非ゼロベクトル $x \in N$ に対して $\sigma(x) \geq d$ が成り立つための必要十分条件は、行列 A の任意の $d-1$ 個の列ベクトルの組が常に一次独立であることを示せ。

An English Translation:

Basic Mathematics II

6

Let f be a linear mapping defined by

$$f : \mathbb{R}^n \rightarrow \mathbb{R}^n; \mathbf{v} \mapsto A\mathbf{v}$$

with an $n \times n$ matrix A . The kernel of f is defined by

$$N = \{\mathbf{v} \in \mathbb{R}^n \mid f(\mathbf{v}) = \mathbf{0}\},$$

and the number of non-zero elements of a vector $\mathbf{v} = (v_1, v_2, \dots, v_n)^\top \in \mathbb{R}^n$ by

$$\sigma(\mathbf{v}) = \sum_{j=1}^n \delta(v_j),$$

where $^\top$ denotes the transposition and $\delta(a) = \begin{cases} 0 & (a = 0) \\ 1 & (a \neq 0) \end{cases}$. Let d be a positive integer less than or equal to n . Answer the following questions.

- (i) Show that the dimension of the subspace $V = \{\mathbf{v} \in \mathbb{R}^n \mid \mathbf{v} = f(\mathbf{u}), \mathbf{u} \in \mathbb{R}^n\}$ of \mathbb{R}^n is given by

$$\dim V = n - \dim N.$$

- (ii) Show that if some $d - 1$ column vectors of the matrix A are linearly dependent, then there exists a non-zero vector $\mathbf{x} \in N$ such that $\sigma(\mathbf{x}) < d$.
- (iii) Show that $\sigma(\mathbf{x}) \geq d$ for any non-zero vector $\mathbf{x} \in N$ if and only if any $d - 1$ column vectors of the matrix A are linearly independent.

応用数学

1

i を虚数単位 ($i^2 = -1$) として, 関数

$$g(t) = \frac{1}{t^2 + 4i}, \quad t \in \mathbb{R},$$

とそのフーリエ変換

$$\widehat{g}(\xi) = \frac{1}{\sqrt{2\pi}} \int_{-\infty}^{\infty} g(t) e^{-i\xi t} dt, \quad \xi \in \mathbb{R},$$

を考える. また, 関数 f を g と \widehat{g} のたたみこみにより

$$f(t) = \int_{-\infty}^{\infty} g(t-s) \widehat{g}(s) ds$$

と定める. 以下の問いに答えよ.

- (i) フーリエ変換 $\widehat{g}(\xi)$ を求めよ.
- (ii) $f(t)$ のフーリエ変換 $\widehat{f}(\xi)$ を求めよ.
- (iii) $\widehat{f}(\xi)$ は \mathbb{R} 上で C^1 級でないことを示せ.
- (iv) $f(t)$ は \mathbb{R} 上で C^∞ 級であることを示せ.

An English Translation:

Applied Mathematics

1

Consider

$$g(t) = \frac{1}{t^2 + 4i}, \quad t \in \mathbb{R},$$

and its Fourier transform

$$\widehat{g}(\xi) = \frac{1}{\sqrt{2\pi}} \int_{-\infty}^{\infty} g(t) e^{-i\xi t} dt, \quad \xi \in \mathbb{R},$$

where i represents the imaginary unit ($i^2 = -1$). Define a function f as the convolution of g and \widehat{g} :

$$f(t) = \int_{-\infty}^{\infty} g(t-s) \widehat{g}(s) ds.$$

Answer the following questions.

- (i) Obtain the Fourier transform $\widehat{g}(\xi)$.
- (ii) Obtain the Fourier transform $\widehat{f}(\xi)$ of $f(t)$,
- (iii) Show that $\widehat{f}(\xi)$ is not of class C^1 on \mathbb{R} .
- (iv) Show that $f(t)$ is of class C^∞ on \mathbb{R} .

グラフ理論

2

$G = (V, E)$ を節点集合 V , 枝集合 E から成る単純強連結有向グラフ, $N = [G, w]$ を G の各枝 $e \in E$ に実数値の重み $w(e)$ を与えて得られるネットワークとする. 節点 u から節点 v への有向枝は (u, v) と書き, その枝重みは $w(u, v)$ と書く. 節点 u から節点 v への距離 $\text{dist}(u, v)$ を N における u から v への単純路上の枝重みの和の最小値と定める. 枝重み和が負である有向閉路を負閉路と呼ぶ. 以下の問いに答えよ.

- (i) 次の条件を満たす節点の実数値重み $p(v)$, $v \in V$ が存在するとき, N に負閉路が存在しないことを証明せよ.

$$w(u, v) + p(u) - p(v) \geq 0, \quad \forall (u, v) \in E.$$

- (ii) 次を満たす節点 $s \in V$ と枝 $(u, v) \in E$ の組が存在するとき, N に負閉路が存在することを証明せよ.

$$\text{dist}(s, u) + w(u, v) < \text{dist}(s, v).$$

- (iii) 各枝の重みが非負であると仮定する. ある部分集合 $S \subseteq V$ と節点 $s \in S$ に対して, S から $V \setminus S$ へ向かう枝 $(u, v) \in E$ の中で $\text{dist}(s, u) + w(u, v)$ の値を最小とする枝を (u^*, v^*) とする. このとき, $\text{dist}(s, v^*) = \text{dist}(s, u^*) + w(u^*, v^*)$ が成り立つことを証明せよ.

An English Translation:

Graph Theory

2

Let $G = (V, E)$ denote a simple, strongly connected digraph with a vertex set V and an edge set E , and let $N = [G, w]$ denote a network obtained from G by assigning a real value $w(e)$ to each edge $e \in E$ as its weight. A directed edge from a vertex u to a vertex v is denoted by (u, v) and its weight is written as $w(u, v)$. Define the distance $\text{dist}(u, v)$ from a vertex u to a vertex v to be the minimum summation of weights of edges in a simple path from u to v in N . A directed cycle is called a negative cycle if the sum of edge weights in the cycle is negative. Answer the following questions.

- (i) Prove that N has no negative cycle if there is a set of real weights $p(v)$, $v \in V$ such that

$$w(u, v) + p(u) - p(v) \geq 0, \quad \forall (u, v) \in E.$$

- (ii) Prove that N has a negative cycle if there is a pair of a vertex $s \in V$ and an edge $(u, v) \in E$ such that

$$\text{dist}(s, u) + w(u, v) < \text{dist}(s, v).$$

- (iii) Assume that the weight of each edge is non-negative. For a subset $S \subseteq V$ and a vertex $s \in S$, let (u^*, v^*) be an edge that minimizes $\text{dist}(s, u) + w(u, v)$ among all edges $(u, v) \in E$ directed from S to $V \setminus S$. Prove that $\text{dist}(s, v^*) = \text{dist}(s, u^*) + w(u^*, v^*)$.

オペレーションズ・リサーチ

3

関数 $h: \mathbb{R}^n \rightarrow \mathbb{R}$ を凸関数とする。さらに、関数 $g: \mathbb{R} \rightarrow \mathbb{R}$ と $f: \mathbb{R}^n \rightarrow \mathbb{R}$ を以下のように定義する。

$$g(t) = 2^t, \quad f(x) = g(h(x))$$

ベクトル $b^i \in \mathbb{R}^n$ ($i = 1, \dots, m$) が与えられたとき、集合 $\Delta \subseteq \mathbb{R}^n$, $\Gamma \subseteq \mathbb{R}^m$, $\Omega \subseteq \mathbb{R}^n$ を以下のように定義する。

$$\begin{aligned} \Delta &= \{b^1, b^2, \dots, b^m\} \\ \Gamma &= \left\{ \alpha \in \mathbb{R}^m \mid \sum_{i=1}^m \alpha_i = 1, \alpha_i \geq 0 \ (i = 1, \dots, m) \right\} \\ \Omega &= \left\{ x \in \mathbb{R}^n \mid x = \sum_{i=1}^m \alpha_i b^i, \alpha \in \Gamma \right\} \end{aligned}$$

次の非線形計画問題 (P) を考える。

$$(P) \quad \begin{aligned} &\text{Maximize} && f(x) \\ &\text{subject to} && x \in \Omega \end{aligned}$$

以下の問いに答えよ。

(i) 任意の $\alpha \in \Gamma$ に対して、次の不等式が成り立つことを示せ。

$$h\left(\sum_{i=1}^m \alpha_i b^i\right) \leq \sum_{i=1}^m \alpha_i h(b^i)$$

(ii) 関数 g と f が凸関数であることを示せ。

(iii) 次の線形計画問題のカルーシュ・キューン・タッカー (Karush-Kuhn-Tucker) 条件を書け。

$$\begin{aligned} &\text{Maximize} && \sum_{i=1}^m f(b^i) \alpha_i \\ &\text{subject to} && \sum_{i=1}^m \alpha_i = 1 \\ &&& \alpha_i \geq 0 \ (i = 1, \dots, m) \end{aligned}$$

ただし、決定変数は α_i ($i = 1, \dots, m$) である。

(iv) 問題 (P) の最適解の集合を X^* とする。このとき、 $X^* \cap \Delta \neq \emptyset$ となることを示せ。

An English Translation:

Operations Research

3

Let $h : \mathbb{R}^n \rightarrow \mathbb{R}$ be a convex function. Moreover, let $g : \mathbb{R} \rightarrow \mathbb{R}$ and $f : \mathbb{R}^n \rightarrow \mathbb{R}$ be defined as $g(t) = 2^t$ and $f(x) = g(h(x))$, respectively.

For given vectors $\mathbf{b}^i \in \mathbb{R}^n$ ($i = 1, \dots, m$), let sets $\Delta \subseteq \mathbb{R}^n$, $\Gamma \subseteq \mathbb{R}^m$, and $\Omega \subseteq \mathbb{R}^n$ be defined as

$$\begin{aligned}\Delta &= \{\mathbf{b}^1, \mathbf{b}^2, \dots, \mathbf{b}^m\}, \\ \Gamma &= \left\{ \alpha \in \mathbb{R}^m \mid \sum_{i=1}^m \alpha_i = 1, \alpha_i \geq 0 \ (i = 1, \dots, m) \right\}, \\ \Omega &= \left\{ \mathbf{x} \in \mathbb{R}^n \mid \mathbf{x} = \sum_{i=1}^m \alpha_i \mathbf{b}^i, \alpha \in \Gamma \right\},\end{aligned}$$

respectively.

Consider the following nonlinear programming problem:

$$\begin{aligned}(\text{P}) \quad & \text{Maximize} \quad f(\mathbf{x}) \\ & \text{subject to} \quad \mathbf{x} \in \Omega.\end{aligned}$$

Answer the following questions.

(i) Show that the following inequality holds for all $\alpha \in \Gamma$.

$$h\left(\sum_{i=1}^m \alpha_i \mathbf{b}^i\right) \leq \sum_{i=1}^m \alpha_i h(\mathbf{b}^i).$$

(ii) Show that functions g and f are convex.

(iii) Write out Karush-Kuhn-Tucker conditions of the following linear programming problem.

$$\begin{aligned}\text{Maximize} \quad & \sum_{i=1}^m f(\mathbf{b}^i) \alpha_i \\ \text{subject to} \quad & \sum_{i=1}^m \alpha_i = 1 \\ & \alpha_i \geq 0 \ (i = 1, \dots, m),\end{aligned}$$

where the decision variables are α_i ($i = 1, \dots, m$).

(iv) Let X^* be the set of optimal solutions of problem (P). Show that $X^* \cap \Delta \neq \emptyset$.

現代制御論

4

状態方程式

$$\frac{d}{dt}x(t) = Ax(t) + C^T u(t), \quad y(t) = Cx(t)$$

により与えられる線形システムを考える。ただし、 $A \in \mathbb{R}^{n \times n}$, $C \in \mathbb{R}^{1 \times n}$, $x(t) \in \mathbb{R}^n$ は状態, $u(t) \in \mathbb{R}$ は制御入力, $y(t) \in \mathbb{R}$ は観測出力であり, T は転置をあらわす。以下の問いに答えよ。

- (i) システムの可観測性の定義を述べよ。
- (ii) システムが可観測かつ A のすべての固有値の実部が負ならば

$$PA + A^T P + C^T C = 0$$

を満たす正定値行列 $P \in \mathbb{R}^{n \times n}$ が存在することを証明せよ。

- (iii) k はある正の整数とし, $n = 2k + 1$ とする。また, A の (i, j) -要素 $(A)_{ij}$ および C の i 番目の要素 $(C)_i$ は

$$(A)_{ij} = \begin{cases} 1, & |i - j| = 1, \\ 0, & |i - j| \neq 1, \end{cases} \quad (C)_i = \begin{cases} 1, & i = k + 1, \\ 0, & i \neq k + 1, \end{cases} \quad i, j = 1, 2, \dots, n,$$

で与えられるとする。このとき, システムの可観測性を判定せよ。さらに, システムの最小実現の次元数を求めよ。

An English Translation:

Modern Control Theory

4

Consider a linear dynamical system given by the state equation

$$\frac{d}{dt}x(t) = Ax(t) + C^T u(t), \quad y(t) = Cx(t),$$

where $A \in \mathbb{R}^{n \times n}$, $C \in \mathbb{R}^{1 \times n}$, $x(t) \in \mathbb{R}^n$ is a state vector, $u(t) \in \mathbb{R}$ is a control input, $y(t) \in \mathbb{R}$ is an output, and T denotes transposition. Answer the following questions.

- (i) Describe the definition of the observability of the system.
- (ii) Show that if the system is observable and the real parts of all the eigenvalues of A are negative, then there exists a positive definite matrix $P \in \mathbb{R}^{n \times n}$ that satisfies

$$PA + A^T P + C^T C = 0.$$

- (iii) Let k be a positive integer, and $n = 2k + 1$. The (i, j) -entry $(A)_{ij}$ of A , and the i -th entry $(C)_i$ of C are given by

$$(A)_{ij} = \begin{cases} 1, & |i - j| = 1, \\ 0, & |i - j| \neq 1, \end{cases} \quad (C)_i = \begin{cases} 1, & i = k + 1, \\ 0, & i \neq k + 1, \end{cases} \quad i, j = 1, 2, \dots, n.$$

Then, determine the observability of the system. Furthermore, find the dimension of a minimal realization of the system.

物理統計学

5

X を尺度母数 $\gamma (> 0)$ のコーシー分布に従う無限区間 $(-\infty, \infty)$ 上の実数値確率変数とし、その確率密度関数は $\rho_\gamma(X) = \frac{\gamma}{\pi(X^2 + \gamma^2)}$ で与えられるものとする。 $X \neq 0$ で変換 $F(X)$ を $F(X) = \alpha X - \frac{\beta}{X}, 0 < \alpha < 1, \beta > 0$ と定義する。以下の問いに答えよ。

(i) 変換 $Y = \alpha \frac{1}{X}, \alpha > 0$ で定義される確率変数 Y は、尺度母数 $\gamma' = \alpha \frac{1}{\gamma}$ のコーシー分布 $\rho_{\gamma'}(Y)$ に従うことを示せ。

(ii) 変換 $Z = F(X)$ で定義される確率変数 Z は、尺度母数 $\gamma'' = \alpha\gamma + \frac{\beta}{\gamma}$ のコーシー分布 $\rho_{\gamma''}(Z)$ に従うことを示せ。

(iii) $p(X|Z) = \frac{\rho_\gamma(X)}{\rho_{\gamma''}(Z) \left| \frac{dF(X)}{dX} \right|}$ と定義する時、関係式

$$\sum_{X \in F^{-1}(\{Z\})} p(X|Z) = 1,$$

$$0 \leq p(X|Z) \leq 1 \quad \text{for } X \in F^{-1}(\{Z\}).$$

を満足することを示せ。

(iv) $\gamma = \sqrt{\frac{\beta}{1-\alpha}}$ である時、エントロピー $S(Z) = - \sum_{X \in F^{-1}(\{Z\})} p(X|Z) \ln p(X|Z)$ の平均

$$h = \int_{-\infty}^{\infty} S(Z) \rho_{\gamma''}(Z) dZ$$

$$h = \int_{-\infty}^{\infty} \ln \left| \frac{dF(X)}{dX} \right| \rho_\gamma(X) dX$$

を満足することを示せ。但し、変換 $F(X)$ があるコーシー分布の不変測度に関してエルゴード性を持つことは既知として良い。

An English Translation:

Physical Statistics

5

Let X be a real-valued random variable over the infinite interval $(-\infty, \infty)$ obeying the Cauchy distribution with a scale parameter $\gamma (> 0)$ whose density function is given by $\rho_\gamma(X) = \frac{\gamma}{\pi(X^2 + \gamma^2)}$. Define $F(X) = \alpha X - \frac{\beta}{X}$, $0 < \alpha < 1, \beta > 0$ for $X \neq 0$. Answer the following questions.

- (i) Show that a random variable Y given by the transformation $Y = \alpha \frac{1}{X}$, $\alpha > 0$ obeys the Cauchy distribution $\rho_{\gamma'}(Y)$ with the scale parameter $\gamma' = \alpha \frac{1}{\gamma}$.
- (ii) Show that a random variable Z given by the transformation $Z = F(X)$ obeys the Cauchy distribution $\rho_{\gamma''}(Z)$ with the scale parameter $\gamma'' = \alpha\gamma + \frac{\beta}{\gamma}$.
- (iii) Define $p(X|Z) = \frac{\rho_\gamma(X)}{\rho_{\gamma''}(Z) \left| \frac{dF(X)}{dX} \right|}$. Show that $p(X|Z)$ satisfies the relations

$$\sum_{X \in F^{-1}(\{Z\})} p(X|Z) = 1,$$

$$0 \leq p(X|Z) \leq 1 \quad \text{for } X \in F^{-1}(\{Z\}).$$

- (iv) Show that when $\gamma = \sqrt{\frac{\beta}{1-\alpha}}$, the average of entropy given by $h = \int_{-\infty}^{\infty} S(Z) \rho_{\gamma''}(Z) dZ$ where $S(Z) = - \sum_{X \in F^{-1}(\{Z\})} p(X|Z) \ln p(X|Z)$ satisfies the relation

$$h = \int_{-\infty}^{\infty} \ln \left| \frac{dF(X)}{dX} \right| \rho_\gamma(X) dX.$$

Here, one can use the fact that the transformation $F(X)$ is ergodic with respect to a certain invariant measure given by a Cauchy distribution.

力学系数学

6

$a, b, c, d \in \mathbb{R}$ を定数として次の微分方程式を考える.

$$t^2 \frac{dx}{dt} + (at + b)x = ct + d \quad (1)$$

以下の問いに答えよ. ただし, $b \neq 0$ とし, 自然数 n に対して最高次の次数が n の t の多項式で表される解を n 次多項式解と呼ぶ.

- (i) 式 (1) が 1 次多項式解をもつための必要十分条件を a, b, c, d を用いて表わせ.
- (ii) 自然数 $n > 1$ に対して, 式 (1) が n 次多項式解をもつための必要十分条件を a, b, c, d, n を用いて表わせ.
- (iii) どんな自然数 n に対しても式 (1) が n 次多項式解をもたないための必要十分条件を a, b, c, d を用いて表わせ.

An English Translation:

Mathematics for Dynamical Systems

6

Let $a, b, c, d \in \mathbb{R}$ be constants and consider the differential equation

$$t^2 \frac{dx}{dt} + (at + b)x = ct + d, \quad (1)$$

where $b \neq 0$. For a positive integer n , a solution is called an n th-order polynomial solution if it is an n th-order polynomial of t containing a nonzero n th-order term. Answer the following questions.

- (i) Obtain a necessary and sufficient condition for equation (1) to have a first-order polynomial solution, and express the condition with a, b, c and d .
- (ii) Let $n > 1$ be an integer. Obtain a necessary and sufficient condition for equation (1) to have an n th-order polynomial solution, and express the condition with a, b, c, d and n .
- (iii) Obtain a necessary and sufficient condition for equation (1) to have no n th-order polynomial solution for any positive integer n , and express the condition with a, b, c and d .